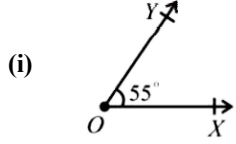


Time: 10 Minutes	Paper Math 6 (T-1)	Total Marks: 10
5th Month, 3rd Week, 3rd Day	Exercise 10.2 Complete	

☆ Answer the following questions: درج ذیل سوالات کے جواب دیں۔

Q.1. Bisect the given angles. (2.5x2=5) دیے گئے زاویوں کے ناصف کھینچیں۔



(ii)  $120^\circ$

Q.2. Construct the given angles using compass. (2.5x2=5)

پرکار کی مدد سے دیے گئے زاویے بنائیں۔

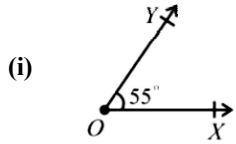
(i)  $75^\circ$

(ii)  $105^\circ$

Time: 10 Minutes	Paper Math 6 (T-1)	Total Marks: 10
5th Month, 3rd Week, 3rd Day	Exercise 10.2 Complete	

☆ Answer the following questions: درج ذیل سوالات کے جواب دیں۔

Q.1. Bisect the given angles. (2.5x2=5) دیے گئے زاویوں کے ناصف کھینچیں۔



(ii)  $120^\circ$

Q.2. Construct the given angles using compass. (2.5x2=5)

پرکار کی مدد سے دیے گئے زاویے بنائیں۔

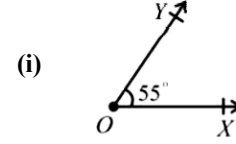
(i)  $75^\circ$

(ii)  $105^\circ$

Time: 10 Minutes	Paper Math 6 (T-1)	Total Marks: 10
5th Month, 3rd Week, 3rd Day	Exercise 10.2 Complete	

☆ Answer the following questions: درج ذیل سوالات کے جواب دیں۔

Q.1. Bisect the given angles. (2.5x2=5) دیے گئے زاویوں کے ناصف کھینچیں۔



(ii)  $120^\circ$

Q.2. Construct the given angles using compass. (2.5x2=5)

پرکار کی مدد سے دیے گئے زاویے بنائیں۔

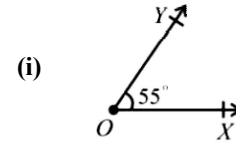
(i)  $75^\circ$

(ii)  $105^\circ$

Time: 10 Minutes	Paper Math 6 (T-1)	Total Marks: 10
5th Month, 3rd Week, 3rd Day	Exercise 10.2 Complete	

☆ Answer the following questions: درج ذیل سوالات کے جواب دیں۔

Q.1. Bisect the given angles. (2.5x2=5) دیے گئے زاویوں کے ناصف کھینچیں۔



(ii)  $120^\circ$

Q.2. Construct the given angles using compass. (2.5x2=5)

پرکار کی مدد سے دیے گئے زاویے بنائیں۔

(i)  $75^\circ$

(ii)  $105^\circ$